

Namn:



Arbetsuppgifter


Faktor 9

Namn: _____

Del 1

Uppgift 1

Tjena!
Ta hjälp av siffrorna och lös
uppgifterna. Lycka till!



$$7 \cdot 9 = \underline{\hspace{2cm}}$$

9 9 9 9 9
9 9

$$3 \cdot 9 = \underline{\hspace{2cm}}$$

9 9 9

$$8 \cdot 9 = \underline{\hspace{2cm}}$$

9 9 9 9 9
9 9 9

$$10 \cdot 9 = \underline{\hspace{2cm}}$$

9 9 9 9 9
9 9 9 9 9

$$0 \cdot 9 = \underline{\hspace{2cm}}$$

$$2 \cdot 9 = \underline{\hspace{2cm}}$$

9 9

4 · 9 = _____



1 · 9 = _____



6 · 9 = _____




5 · 9 = _____



9 · 9 = _____



Uppgift 2



Försök att lösa uppgifterna utan hjälp av siffrorna. Ös på!

$5 \cdot 9 = \underline{\hspace{2cm}}$

$7 \cdot 9 = \underline{\hspace{2cm}}$

$1 \cdot 9 = \underline{\hspace{2cm}}$

$3 \cdot 9 = \underline{\hspace{2cm}}$

$8 \cdot 9 = \underline{\hspace{2cm}}$

$0 \cdot 9 = \underline{\hspace{2cm}}$


$4 \cdot 9 = \underline{\hspace{2cm}}$

$6 \cdot 9 = \underline{\hspace{2cm}}$

$2 \cdot 9 = \underline{\hspace{2cm}}$

$9 \cdot 9 = \underline{\hspace{2cm}}$

Grymt
ös
kompis!




Faktor 9

Namn:

Del 2

Uppgift 1

Skriv de tal som saknas i talmönstren.




0 9 18 ___ 36 45

45 ___ 63 ___ 81

9 ___ 27 ___ ___

Nu är det dags att skriva hela nians tabell i rätt ordning. Börja på noll.



_____	_____	_____	_____	_____	_____
_____	_____	_____	_____	_____	_____

Uppgift 2

Lös uppgifterna. Kom ihåg att visa hur du löst uppgifterna.



Hasan har byggt fyra leksaksbilar. Varje bil är byggd av nio legobitar. Hur många legobitar har Hasan använt till alla bilarna?

Visa hur du räknar: _____

Svar: _____

Mini bakar bullar till fem vänner. Hon bakar nio bullar till varje vän. Hur många bullar bakar hon sammanlagt?

Visa hur du räknar: _____

Svar: _____

Nelly, Fixx, Fabian, Holger och Kim har nio kottar var. Hur många kottar har de tillsammans?

Visa hur du räknar: _____

Svar: _____

My vill köpa nio avokados. De kostar nio kronor styck. Hur mycket kostar de tillsammans?

Visa hur du räknar: _____

Svar: _____

Åtta stycken grodor hoppar nio meter var. Hur många meter hoppar de sammanlagt?

Visa hur du räknar: _____


Svar: _____

Faktor 9

Namn:

Del 3

Uppgift 1




Gör en räknesaga. Rita bilder så de passar uppgifterna.

$$3 \cdot 9 =$$

$$8 \cdot 9 =$$

Uppgift 2



Tjena!
Nu vill jag att du gör textuppgifter till
de uppgifter som
du ser här nedanför. Lycka till, kompis!

$7 \cdot 9 =$

$9 \cdot 9 =$

Faktor 9


Namn:

Utvärdering

Jag tycker att arbetet med nians multiplikationstabell var

roligt ganska roligt mindre roligt inte alls roligt

Ringa in det alternativ som
passar dig!



Jag tycker att arbetet med nians multiplikationstabell var

enkelt ganska enkelt ganska svårt svårt



Ringa in det alternativ som
passar dig!

Diplom

Mycket bra jobbat!

_____.

(elevens namn)

Du kan nians multiplikationstabell!

_____.

(lärarens namn)

Bra jobbat!
Holger och Fixx