

Namn:



Arbetsuppgifter

Faktor 4

Namn: \_\_\_\_\_

Del 1

Uppgift 1

Tjena kompis!  
Ta hjälp av pingvinerna  
och lös talen. Lycka till!




$4 \cdot 4 =$  \_\_\_\_\_




$2 \cdot 4 =$  \_\_\_\_\_



$7 \cdot 4 =$  \_\_\_\_\_



$10 \cdot 4 =$  \_\_\_\_\_




$0 \cdot 4 = \underline{\hspace{2cm}}$

$3 \cdot 4 = \underline{\hspace{2cm}}$



$9 \cdot 4 = \underline{\hspace{2cm}}$




$1 \cdot 4 = \underline{\hspace{2cm}}$




Bra jobbat!




$6 \cdot 4 = \underline{\hspace{2cm}}$




$8 \cdot 4 = \underline{\hspace{2cm}}$



$5 \cdot 4 = \underline{\hspace{2cm}}$



## Uppgift 2



Försök att lösa talen utan hjälp av pingvinerna. Ös på!

$5 \cdot 4 = \underline{\hspace{2cm}}$

$7 \cdot 4 = \underline{\hspace{2cm}}$

$1 \cdot 4 = \underline{\hspace{2cm}}$

$3 \cdot 4 = \underline{\hspace{2cm}}$

$8 \cdot 4 = \underline{\hspace{2cm}}$

$0 \cdot 4 = \underline{\hspace{2cm}}$


$4 \cdot 4 = \underline{\hspace{2cm}}$

$6 \cdot 4 = \underline{\hspace{2cm}}$

$2 \cdot 4 = \underline{\hspace{2cm}}$

$9 \cdot 4 = \underline{\hspace{2cm}}$

Heja heja!




# Faktor 4

Namn:

## Del 2

### Uppgift 1

Skriv de tal som saknas i talmönstren.



0 4 8 \_\_\_ 16 20

24 \_\_\_ 32 \_\_\_ 40

8 \_\_\_ 16 \_\_\_ \_\_\_


Nu är det dags att skriva hela fyrans tabell i rätt ordning. Börja på noll.



\_\_\_\_\_  
\_\_\_\_\_

## Uppgift 2

Lös talen. Kom ihåg att visa hur du löst talen.



Fabian har tre bilar. Alla bilar har fyra hjul. Hur många hjul är det sammanlagt på bilarna?

Visa hur du räknar: \_\_\_\_\_

Svar: \_\_\_\_\_

Gordon äter fyra russin varje dag i en hel vecka. Hur många russin har han ätit?

Visa hur du räknar: \_\_\_\_\_

Svar: \_\_\_\_\_

Mini, Git, Holger och Dragan har fyra kronor var. Hur många kronor har de tillsammans?

Visa hur du räknar: \_\_\_\_\_

Svar: \_\_\_\_\_

Doretta vill köpa nio äpplen. De kostar fyra kronor styck.  
Hur mycket måste hon betala för sina äpplen?

Visa hur du räknar: \_\_\_\_\_

Svar: \_\_\_\_\_

Fixx, Nikke, Una och My hoppar fyra grodhopp var. Hur  
många hopp blir det sammanlagt?

Visa hur du räknar: \_\_\_\_\_

Svar: \_\_\_\_\_

Faktor 4

Namn:

Del 3

Uppgift 1




Gör en räknesaga. Rita bilder så de passar uppgifterna.

$$6 \cdot 4 =$$

$$3 \cdot 4 =$$



## Uppgift 2



Tjena!  
Nu vill jag att du gör textuppgifter till  
de uppgifter som  
du ser här nedanför. Lycka till, kompis!

$$9 \cdot 4 =$$

---

---

---

---

---

---

$$7 \cdot 4 =$$

---

---

---

---

---

---

Faktor 4


Namn:

# Utvärdering

Jag tycker att arbetet med fyrans multiplikationstabell var


roligt    ganska roligt    mindre roligt    inte alls roligt

Ringa in det alternativ som  
passar dig!



Jag tycker att arbetet med fyrans multiplikationstabell var

enkelt    ganska enkelt    ganska svårt    svårt



Ringa in det alternativ som  
passar dig!

# Diplom

Mycket bra jobbat!

\_\_\_\_\_.

(elevens namn)

Du kan fyrans multiplikationstabell!

\_\_\_\_\_.

(lärarens namn)

**Bra jobbat!**  
**Holger och Fixx**