

Namn:



Arbetsuppgifter


Faktor 8

Namn: _____

Del 1

Uppgift 1

Tjena kompis!
Ta hjälp av kepsarna
och lös uppgifterna.
Lycka till!



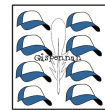
$4 \cdot 8 = \underline{\hspace{2cm}}$



$2 \cdot 8 = \underline{\hspace{2cm}}$



$7 \cdot 8 = \underline{\hspace{2cm}}$

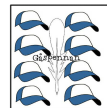


$0 \cdot 8 = \underline{\hspace{2cm}}$

$10 \cdot 8 = \underline{\hspace{2cm}}$



$3 \cdot 8 = \underline{\hspace{2cm}}$



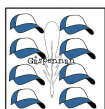
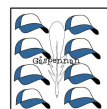
$9 \cdot 8 = \underline{\hspace{2cm}}$



$1 \cdot 8 = \underline{\hspace{2cm}}$



$6 \cdot 8 = \underline{\hspace{2cm}}$



$8 \cdot 8 = \underline{\hspace{2cm}}$




$5 \cdot 8 = \underline{\hspace{2cm}}$



Grymt jobbat!



Uppgift 2



Försök att lösa
uppgifterna utan hjälp
av kepsarna. Ös på!

$5 \cdot 8 = \underline{\hspace{2cm}}$

$7 \cdot 8 = \underline{\hspace{2cm}}$

$1 \cdot 8 = \underline{\hspace{2cm}}$

$3 \cdot 8 = \underline{\hspace{2cm}}$

$8 \cdot 8 = \underline{\hspace{2cm}}$

$0 \cdot 8 = \underline{\hspace{2cm}}$

$4 \cdot 8 = \underline{\hspace{2cm}}$

$6 \cdot 8 = \underline{\hspace{2cm}}$

$2 \cdot 8 = \underline{\hspace{2cm}}$

$9 \cdot 8 = \underline{\hspace{2cm}}$

Faktor 8

Namn:

Del 2

Uppgift 1

Skriv de tal som saknas i talmönstren.




0 8 16 24 ___ 40

16 ___ ___ 40 48

48 ___ 64 ___ ___

Nu är det dags att skriva hela åttans tabell i rätt ordning. Börja på noll.



_____	_____	_____	_____	_____	_____
_____	_____	_____	_____	_____	_____

Uppgift 2

Lös talen. Kom ihåg att visa hur du löst talen.



Stellan har köpt tre påsar med åtta pennor i varje påse. Hur många pennor har Stellan köpt?

Visa hur du räknar: _____

Svar: _____

Fabian äter åtta korvar varje dag i en hel vecka. Hur många korvar äter han den veckan?

Visa hur du räknar: _____

Svar: _____

Gordon, Kim, Doretta och Hasan har åtta kronor var. Hur många kronor har de tillsammans?

Visa hur du räknar: _____

Svar: _____

Holger köper två tidningar. De kostar åtta kronor styck. Hur mycket måste han betala för tidningarna?

Visa hur du räknar: _____

Svar: _____

Bea, Una, Fixx, Lus och Robin hoppar åtta meter var. Hur många meter hoppar de sammanlagt?

Visa hur du räknar: _____

Svar: _____

Faktor 8

Namn:

Del 3



Gör en räknesaga. Rita bilder så de passar uppgifterna.

Uppgift 1

$$7 \cdot 8 =$$

$$8 \cdot 8 =$$

Uppgift 2



Tjena!
Nu vill jag att du gör textuppgifter till
de uppgifter som
du ser här nedanför. Lycka till, kompis!

$6 \cdot 8 =$

$10 \cdot 8 =$

Faktor 8


Namn:

Utvärdering

Jag tycker att arbetet med åttans multiplikationstabell var


roligt ganska roligt mindre roligt inte alls roligt

Ringa in det alternativ som
passar dig!



Jag tycker att arbetet med åttans multiplikationstabell var

enkelt ganska enkelt ganska svårt svårt



Ringa in det alternativ som
passar dig!



Diplom

Mycket bra jobbat!

_____.
(elevens namn)

Du kan åttans multiplikationstabell!

_____.
(lärarens namn)

Bra jobbat!
Holger och Fixx